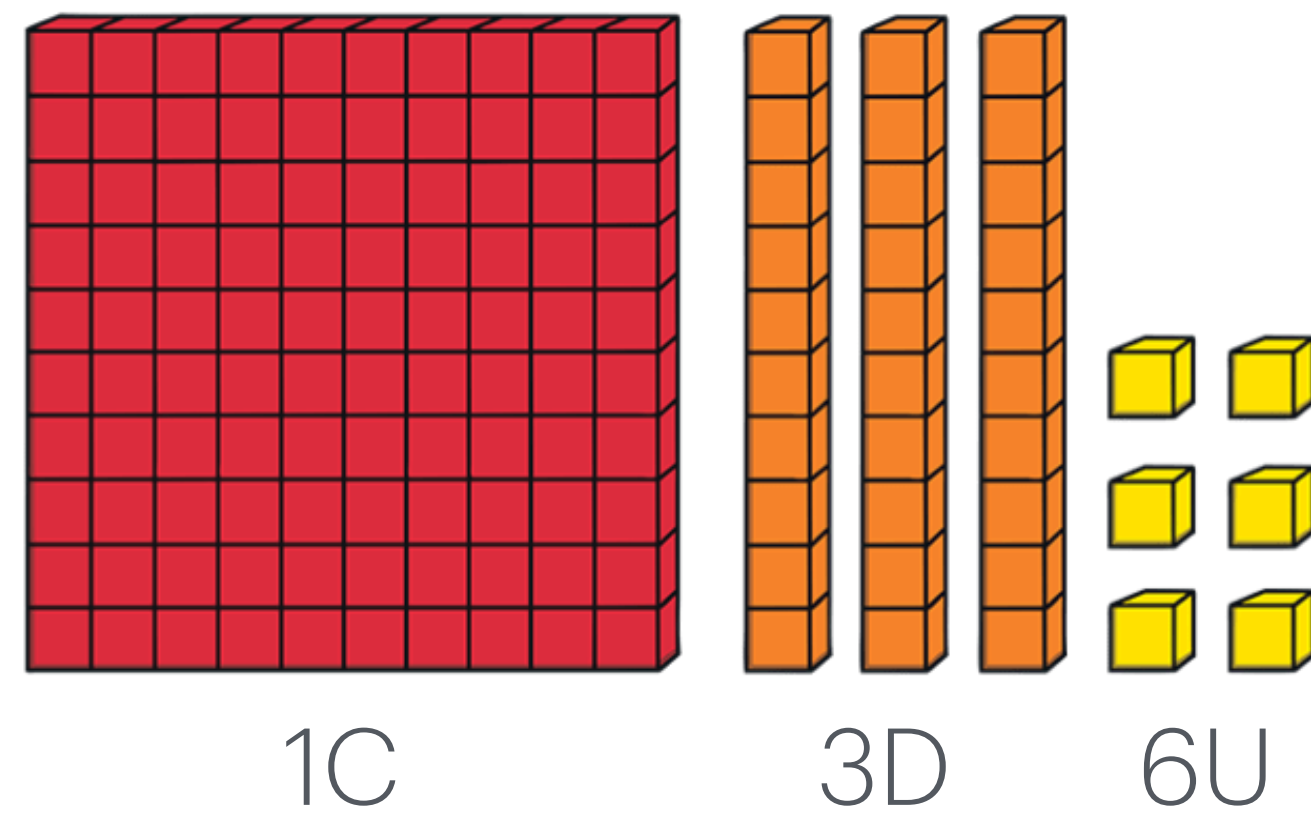


Números de tres cifras



Número de tres cifras

Recordemos

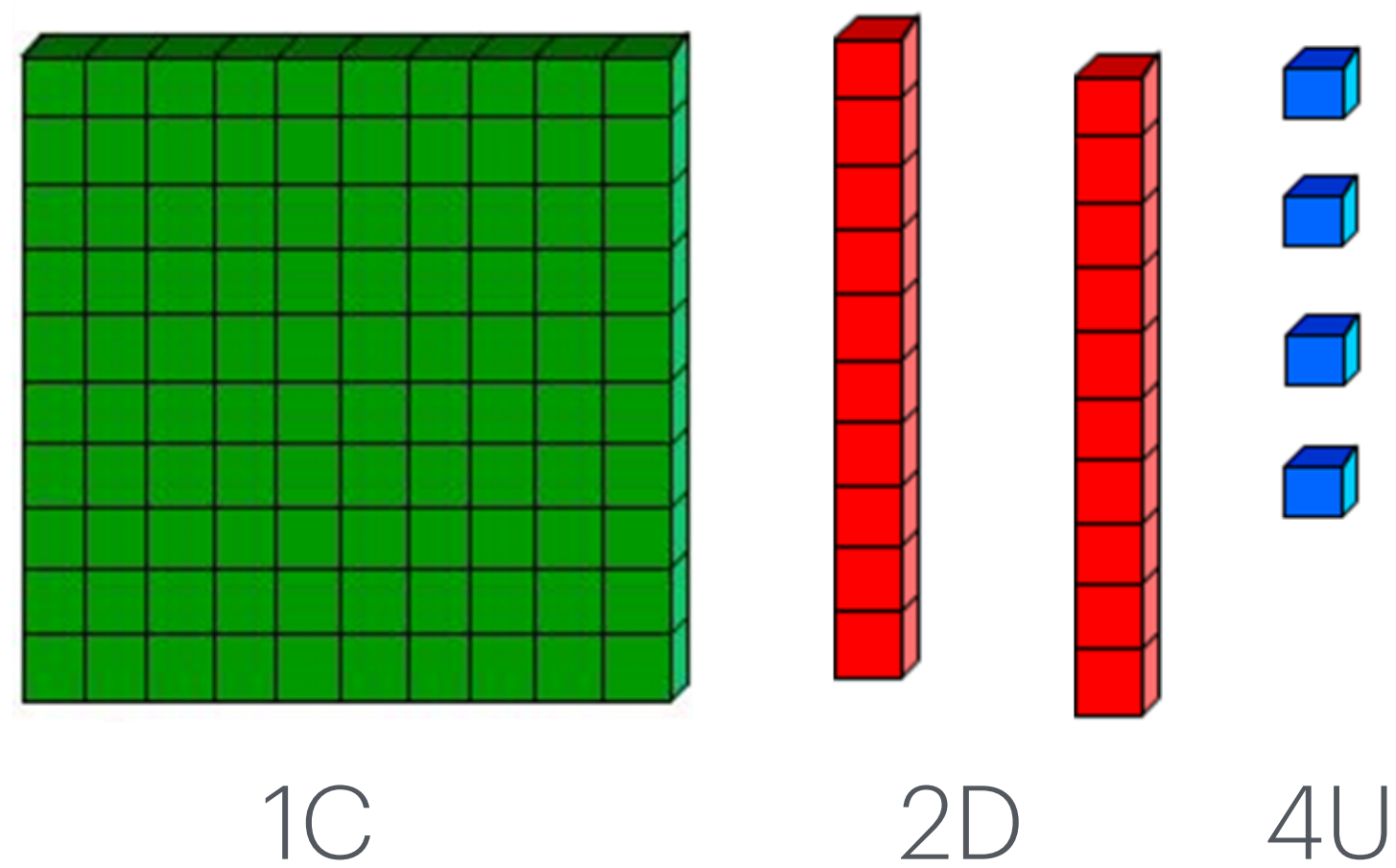


Se lee

136

Se escribe

Ciento treinta y seis



124

Ciento veinticuatro

Número de tres cifras

Comprueba

Comprueba estas descomposiciones:

$$500 + 60 + 8 = 568$$

$$1D + 5C = 510$$

Interpreta lo siguiente:

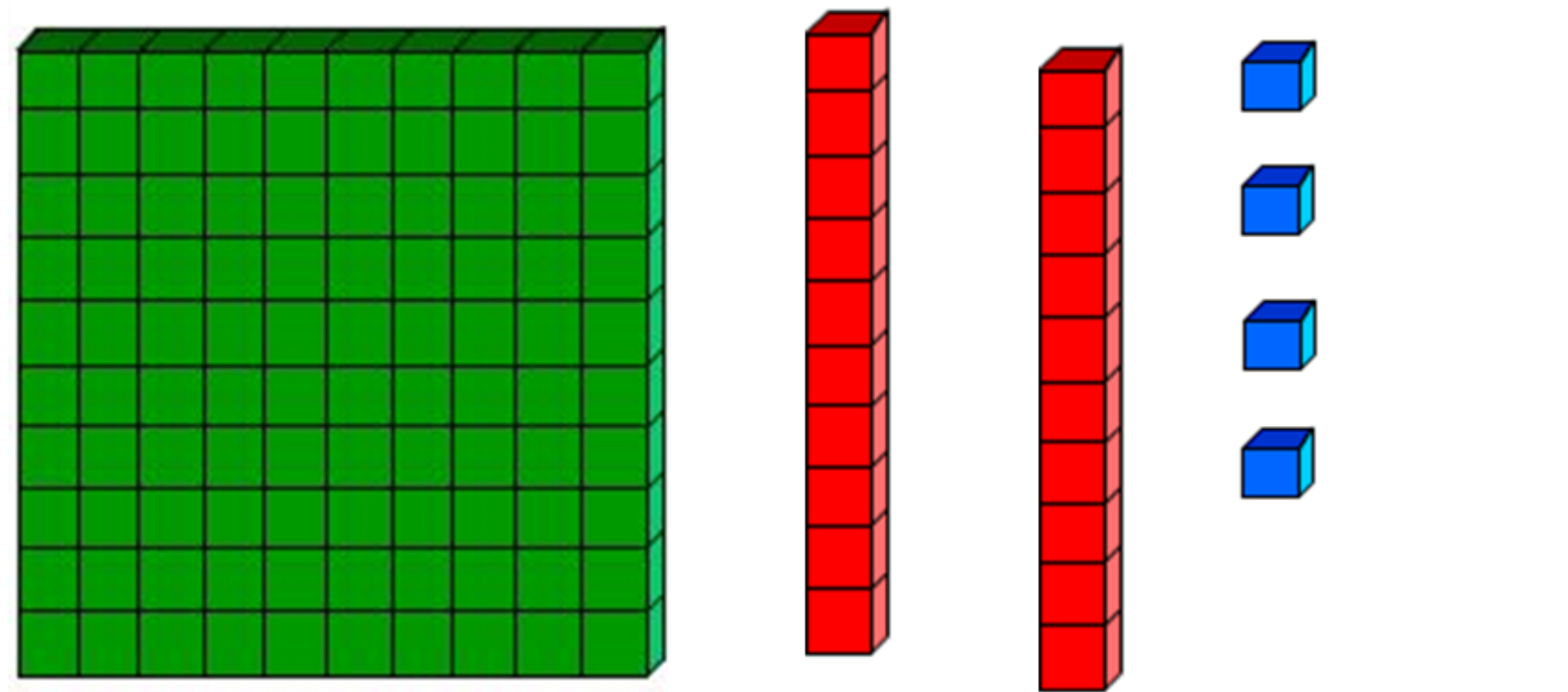
Lara: ¿ $3C + 4D + 5U$ es lo mismo que 354?

Abril: $3C + 9D + 4U$ es lo mismo que $300+90+4$?

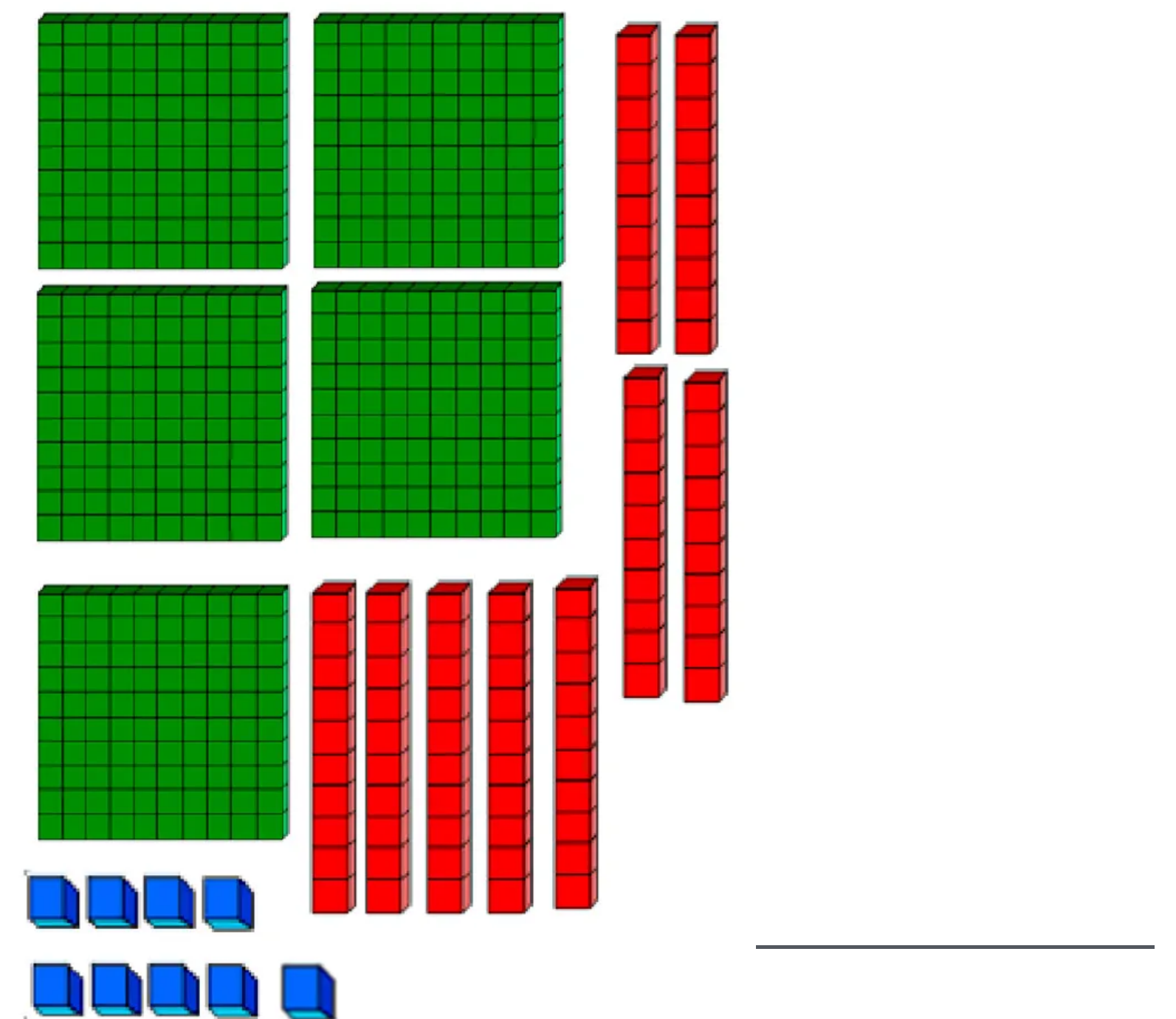
¿Qué opinas tú?

Número de tres cifras

¿Cuántos  hay?. Escribe la respuesta en los espacios en blanco



Escribe los números en palabras:



Escribe los números en palabras:

Número de tres cifras

Desarrolla

Escribe los números en palabras

a. 302 _____

b. 849 _____

c. 762 _____

Escribe en números

a. Seiscientos veintitrés _____

b. Cuatrocientos ochenta _____

c. Novecientos dos _____

Número de tres cifras

Desarrolla

a. En 723, el dígito está en la posición de las decenas.

b. En 508, el valor del dígito 5 es

c. $679 = 600 + \underline{\quad} + 9$

¿Qué número es mayor? 569 - 769

¿Qué número es menor? 320 - 230 - 500 - 501

Ordena de mayor a menor:

509 - 905 - 590 - 950

Número de tres cifras

Completa la serie

- 830, 833, 836, _____, _____, _____
- 500, 600, 700, _____, _____, _____
- 144, _____, 136, 132, 128, _____, _____
- 4, 8, 6, 10, 8, 12, 10, 14, _____, _____, _____
- 10, 15, 14, 19, 18, 23, 22, _____, _____, _____

Número de tres cifras

Sumas

$$\begin{array}{r} 234 \\ + 713 \\ \hline \end{array}$$

$$\begin{array}{r} 486 \\ + 257 \\ \hline \end{array}$$

$$\begin{array}{r} 126 \\ + 108 \\ \hline \end{array}$$

$$\begin{array}{r} 673 \\ + 221 \\ \hline \end{array}$$

$$\begin{array}{r} 708 \\ + 96 \\ \hline \end{array}$$

$$\begin{array}{r} 906 \\ + 55 \\ \hline \end{array}$$

$$\begin{array}{r} 592 \\ + 246 \\ \hline \end{array}$$

$$\begin{array}{r} 569 \\ + 101 \\ \hline \end{array}$$

$$\begin{array}{r} 223 \\ + 475 \\ \hline \end{array}$$

Número de tres cifras

Restas

$$\begin{array}{r} 234 \\ - 113 \\ \hline \end{array}$$

$$\begin{array}{r} 386 \\ - 254 \\ \hline \end{array}$$

$$\begin{array}{r} 126 \\ - 104 \\ \hline \end{array}$$

$$\begin{array}{r} 563 \\ - 221 \\ \hline \end{array}$$

$$\begin{array}{r} 698 \\ - 96 \\ \hline \end{array}$$

$$\begin{array}{r} 956 \\ - 55 \\ \hline \end{array}$$

$$\begin{array}{r} 692 \\ - 151 \\ \hline \end{array}$$

$$\begin{array}{r} 569 \\ - 101 \\ \hline \end{array}$$

$$\begin{array}{r} 279 \\ - 275 \\ \hline \end{array}$$

Número de tres cifras

Escribe los números que faltan

$$\begin{array}{r} 256 \\ + 1\boxed{4} \\ \hline 380 \end{array}$$

$$\begin{array}{r} \boxed{0}8 \\ + 399 \\ \hline 907 \end{array}$$

$$\begin{array}{r} 589 \\ + 3\boxed{6} \\ \hline 945 \end{array}$$

Número de tres cifras

Escribe los números que faltan

$$\begin{array}{r} 655 \\ - 1\boxed{1} \\ \hline 524 \end{array}$$

$$\begin{array}{r} \boxed{}99 \\ - 306 \\ \hline 693 \end{array}$$

$$\begin{array}{r} 785 \\ - 4\boxed{3} \\ \hline 342 \end{array}$$